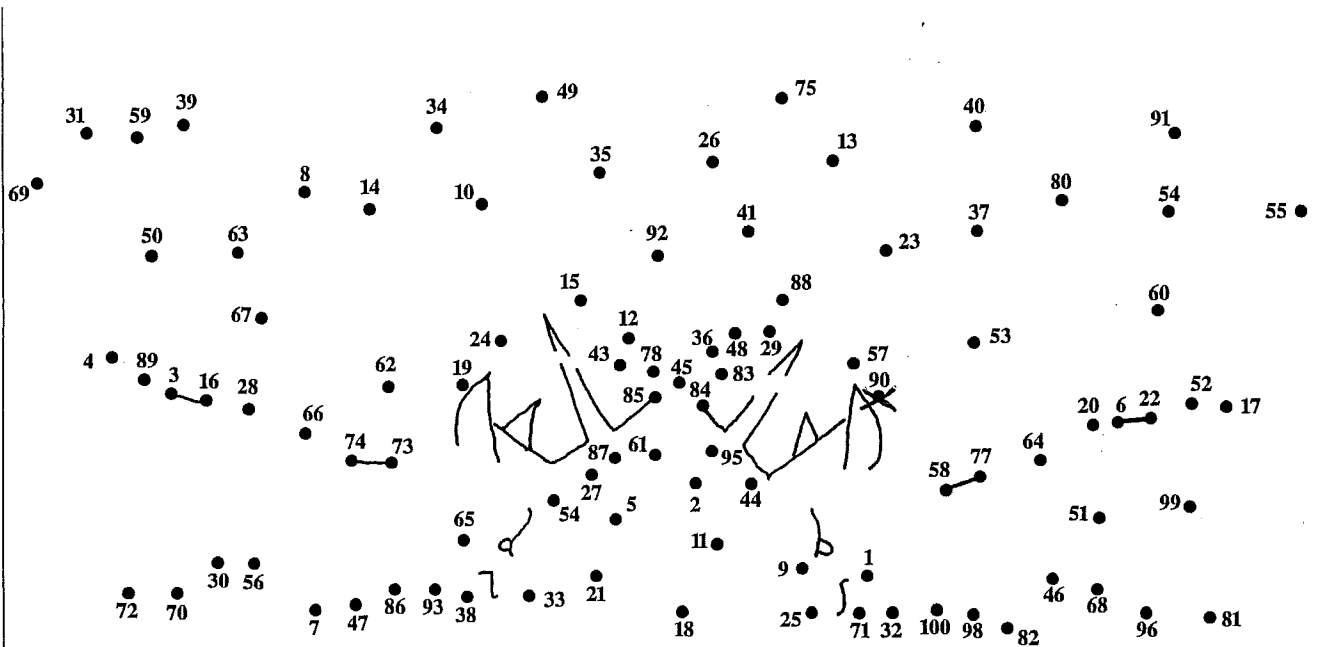
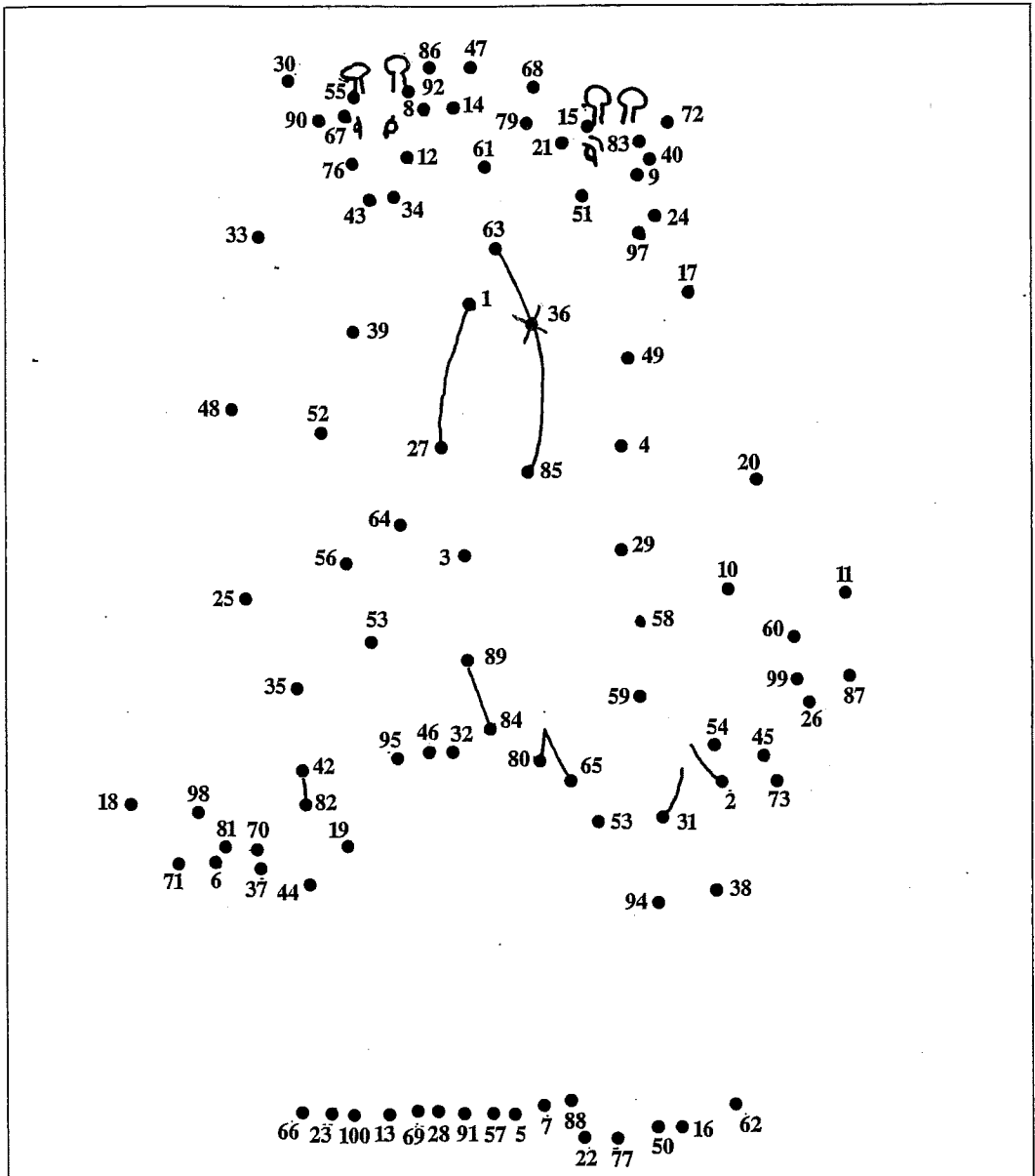


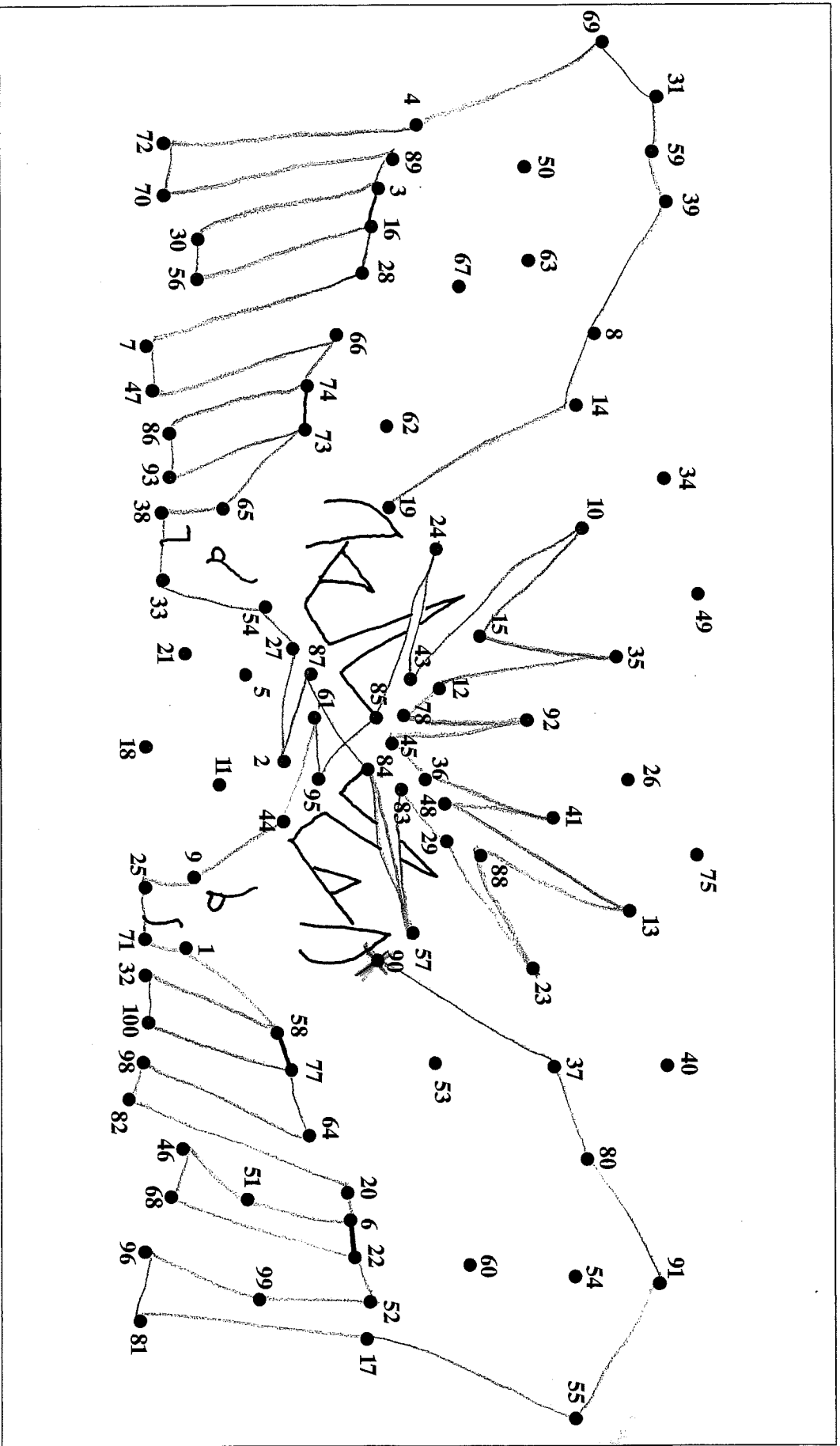
3 A Zahlen nennen und verstehen (2)

1. Dein Partner/Deine Partnerin sagt dir, wo du anfängst und wie es weitergeht. Hör genau hin:



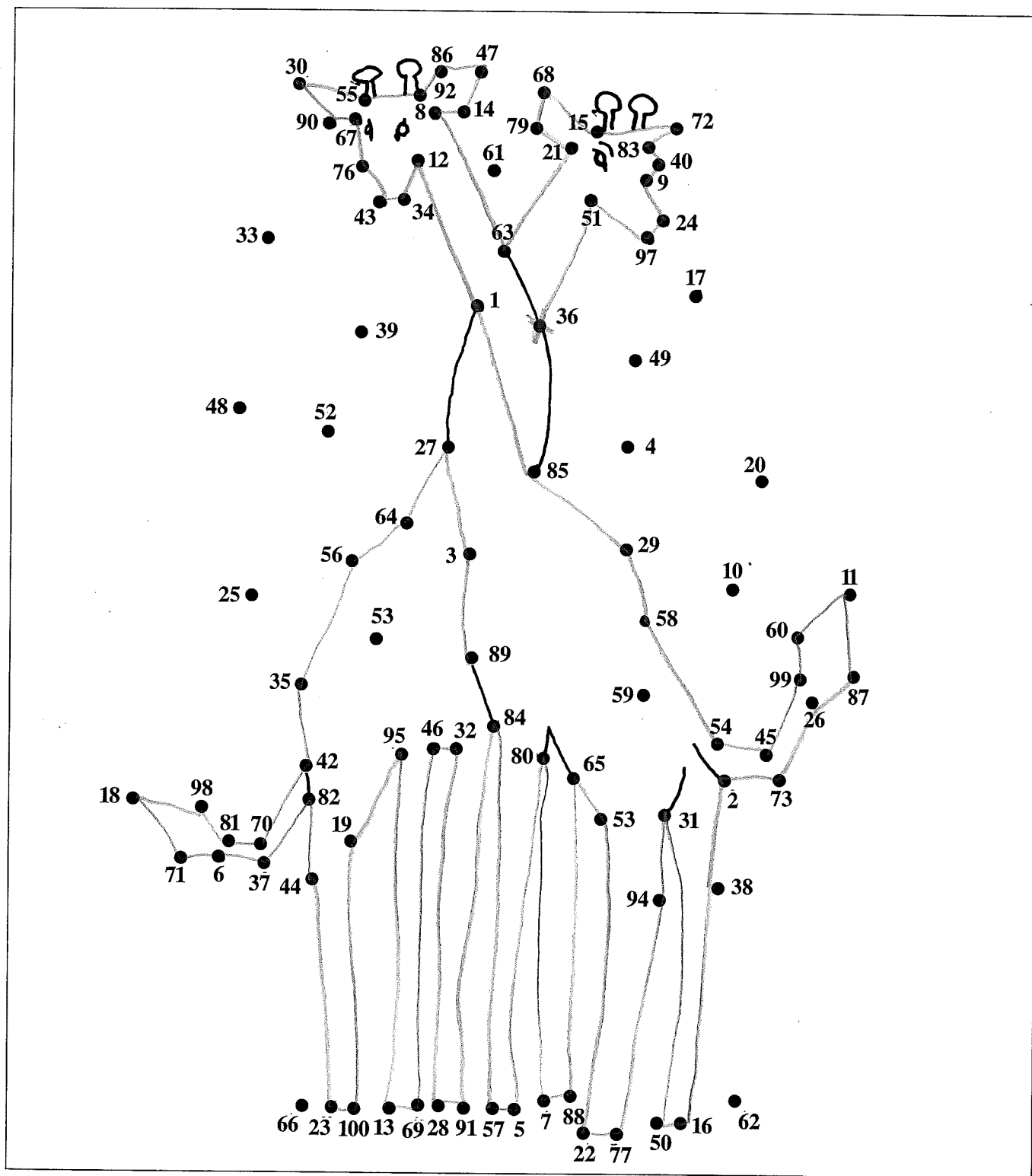
1. Dein Partner/Deine Partnerin hat ein Bild aus Punkten und Zahlen. Sag ihm/ihr, in welcher Reihenfolge er/sie die Zahlen mit Linien verbinden soll:
 36 - 51 - 97 - 24 - 9 - 40 - 83 - 72 - 15 - 68 - 79 - 21 - 63 - 8 - 14 - 47 - 86 - 92 - 55 - 30 - 90 - 67 - 76 - 43 - 34 - 12 - 1 - 85 - 29 - 58 - 54 - 45 -
 99 - 60 - 11 - 87 - 26 - 73 - 2 - 38 - 16 - 50 - 31 - 94 - 77 - 22 - 53 - 65 - 88 - 7 - 80 - 5 - 57 - 84 - 91 - 28 - 32 - 46 - 69 - 13 - 95 - 19 - 100 - 23 -
 44 - 82 - 37 - 6 - 71 - 18 - 98 - 81 - 70 - 42 - 35 - 56 - 64 - 27 - 3 - 89

2. Dein Partner/Deine Partnerin sagt dir, wo du anfängst und wie es weitergeht. Hör genau hin.



3A Zahlen nennen und verstehen (2)

1. Dein Partner/Deine Partnerin sagt dir, wo du anfängst und wie es weitergeht. Hör genau hin:



2. Dein Partner/Deine Partnerin hat ein Bild aus Punkten und Zahlen. Sag ihm/ihr, in welcher Reihenfolge er/sie die Zahlen mit Linien verbinden soll:

90 - 37 - 80 - 91 - 55 - 17 - 81 - 96 - 99 - 52 - 22 - 68 - 46 - 51 - 6 - 20 - 82 - 98 - 64 - 77 - 100 - 32 - 58 - 1 - 71 - 25 - 9 - 44 - 61 - 95 - 85 - 24 - 43 - 10 - 15 - 35 - 12 - 78 - 92 - 45 - 36 - 41 - 48 - 13 - 88 - 23 - 29 - 83 - 57 - 84 - 87 - 2 - 27 - 54 - 33 - 38 - 65 - 73 - 93 - 86 - 74 - 66 - 47 - 7 - 28 - 16 - 56 - 30 - 3 - 89 - 70 - 72 - 4 - 69 - 31 - 59 - 39 - 8 - 14 - 19